

Name:	
Klasse/Jahrgang:	



Standardisierte kompetenzorientierte
schriftliche Reife- und Diplomprüfung

BHS

8. Mai 2019

Angewandte Mathematik

HTL 1



Hinweise zur Aufgabenbearbeitung

Liebe Kandidatin! Lieber Kandidat!

Das vorliegende Aufgabenheft enthält Teil-A-Aufgaben und Teil-B-Aufgaben mit jeweils unterschiedlich vielen Teilaufgaben. Die Teilaufgaben sind unabhängig voneinander bearbeitbar. Ihnen stehen insgesamt *270 Minuten* an reiner Arbeitszeit zur Verfügung.

Verwenden Sie für die Bearbeitung ausschließlich dieses Aufgabenheft und das Ihnen zur Verfügung gestellte Arbeitspapier. Schreiben Sie Ihren Namen und Ihren Jahrgang bzw. Ihre Klasse in die dafür vorgesehenen Felder auf dem Deckblatt des Aufgabenhefts sowie Ihren Namen und die fortlaufende Seitenzahl auf jedes verwendete Blatt Arbeitspapier. Geben Sie bei der Beantwortung jeder Teilaufgabe deren Bezeichnung (z. B.: 3d1) auf dem Arbeitspapier an.

In die Beurteilung wird alles einbezogen, was nicht durchgestrichen ist. Streichen Sie Notizen durch.

Die Verwendung von approbierten Formelheften bzw. von der Formelsammlung für die SRDP in Angewandter Mathematik und von elektronischen Hilfsmitteln (z. B. grafikfähiger Taschenrechner oder andere entsprechende Technologie) ist erlaubt, sofern keine Kommunikationsmöglichkeit (z. B. via Internet, Intranet, Bluetooth, Mobilfunknetzwerke etc.) gegeben ist und der Zugriff auf Eigendateien im elektronischen Hilfsmittel nicht möglich ist.

Eine Erläuterung der Antwortformate liegt im Prüfungsraum zur Durchsicht auf.

Handreichung für die Bearbeitung

- Jede Berechnung ist mit einem nachvollziehbaren Rechenansatz und einer nachvollziehbaren Dokumentation des Technologieeinsatzes (die verwendeten Ausgangsparameter und die verwendete Technologiefunktion müssen angegeben werden) durchzuführen.
- Selbst gewählte Variablen sind zu erklären und gegebenenfalls mit Einheiten zu benennen.
- Ergebnisse sind eindeutig hervorzuheben.
- Ergebnisse sind mit entsprechenden Einheiten anzugeben, wenn dies in der Handlungsanweisung explizit gefordert wird.
- Werden Diagramme oder Skizzen als Lösungen erstellt, so sind die Achsen zu skalieren und zu beschriften.
- Werden geometrische Skizzen erstellt, so sind die lösungsrelevanten Teile zu beschriften.
- Vermeiden Sie frühzeitiges Runden.
- Legen Sie allfällige Computerausdrucke der Lösung mit Ihrem Namen beschriftet bei.
- Wird eine Aufgabe mehrfach gerechnet, so sind alle Lösungswege bis auf einen zu streichen.

So ändern Sie Ihre Antwort bei Aufgaben zum Ankreuzen:

1. Übermalen Sie das Kästchen mit der nicht mehr gültigen Antwort.
2. Kreuzen Sie dann das gewünschte Kästchen an.

Hier wurde zuerst die Antwort „ $5 + 5 = 9$ “ gewählt und dann auf „ $2 + 2 = 4$ “ geändert.

$1 + 1 = 3$	<input type="checkbox"/>
$2 + 2 = 4$	<input checked="" type="checkbox"/>
$3 + 3 = 5$	<input type="checkbox"/>
$4 + 4 = 4$	<input type="checkbox"/>
$5 + 5 = 9$	<input checked="" type="checkbox"/>

So wählen Sie eine bereits übermalte Antwort:

1. Übermalen Sie das Kästchen mit der nicht mehr gültigen Antwort.
2. Kreuzen Sie das gewünschte übermalte Kästchen ein.

Hier wurde zuerst die Antwort „ $2 + 2 = 4$ “ übermalt und dann wieder gewählt.

$1 + 1 = 3$	<input type="checkbox"/>
$2 + 2 = 4$	<input checked="" type="checkbox"/>
$3 + 3 = 5$	<input type="checkbox"/>
$4 + 4 = 4$	<input checked="" type="checkbox"/>
$5 + 5 = 9$	<input type="checkbox"/>

Es gilt folgender Beurteilungsschlüssel:

44–48 Punkte	Sehr gut
38–43 Punkte	Gut
31–37 Punkte	Befriedigend
23–30 Punkte	Genügend
0–22 Punkte	Nicht genügend

Viel Erfolg!

Aufgabe 1

Die Adria-Wien-Pipeline

Österreich muss einen Großteil seines Erdölbedarfs durch Importe von Rohöl decken. Diese Importe werden vorwiegend über die Adria-Wien-Pipeline durchgeführt, die von Triest nach Wien-Schwechat führt.

- a) Die folgende Tabelle gibt die nach Österreich importierten Rohölmengen in den Jahren 2006 bis 2014 an:

Jahr	2006	2007	2008	2009	2010	2011	2012	2013	2014
importierte Rohölmenge in Millionen Tonnen	7,7	7,6	7,9	7,4	6,8	7,3	7,4	7,8	7,5

Quelle: <https://www.wko.at/branchen/industrie/mineraloelindustrie/jahresberichte.html> [22.11.2018].

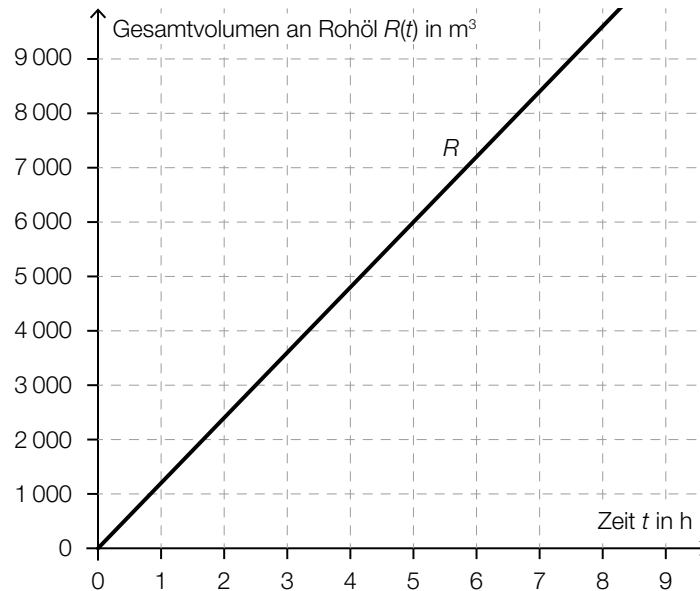
- 1) Ermitteln Sie das arithmetische Mittel und die Standardabweichung der importierten Rohölmengen für diesen Zeitraum in Millionen Tonnen. [1 Punkt]
- b) Modellhaft betrachtet ist die Pipeline ein Drehzylinder mit dem Durchmesser d und der Höhe l .

Der Innendurchmesser der Pipeline beträgt $d = 457,2$ mm. Die Länge der Pipeline beträgt rund $l = 416$ km.

In der Erdölindustrie wird für das Volumen von Rohöl häufig die Einheit *Barrel* verwendet. Es gilt: $1 \text{ Barrel} \approx 0,159 \text{ m}^3$

- 1) Berechnen Sie, wie viele Barrel Rohöl die vollständig befüllte Pipeline fasst. [2 Punkte]

- c) Das Gesamtvolumen an Rohöl, das im Zeitintervall $[0; t]$ einen Kontrollpunkt in der Pipeline passiert, kann näherungsweise durch die Funktion R in Abhängigkeit von der Zeit t modelliert werden. Der Graph der Funktion R ist in der nachstehenden Abbildung dargestellt.



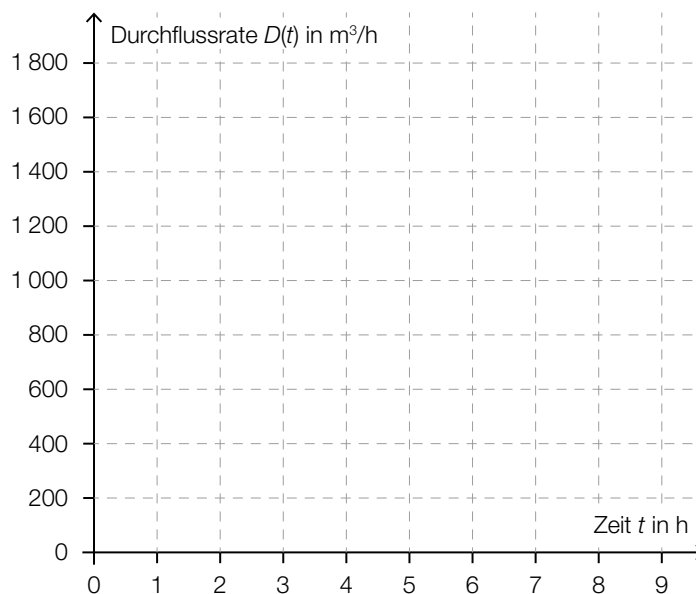
- 1) Erstellen Sie mithilfe des oben dargestellten Graphen eine Gleichung der Funktion R .

[1 Punkt]

Die Durchflussrate $D(t)$ zum Zeitpunkt t ist die momentane Änderungsrate der Funktion R .

- 2) Zeichnen Sie im nachstehenden Koordinatensystem den Graphen der Durchflussrate ein.

[1 Punkt]



Aufgabe 2

Vitamin C

- a) Der Vitamin-C-Gehalt eines Apfels nimmt nach der Ernte exponentiell ab. Alle 4 Wochen nimmt der Vitamin-C-Gehalt um 20 % bezogen auf den Wert zu Beginn dieser 4 Wochen ab. Ein bestimmter Apfel hat bei der Ernte einen Vitamin-C-Gehalt von 18 mg.

Der Vitamin-C-Gehalt dieses Apfels in Milligramm soll in Abhängigkeit von der Zeit t in Wochen beschrieben werden.

- 1) Erstellen Sie eine Gleichung der zugehörigen Funktion. Wählen Sie $t = 0$ für den Zeitpunkt der Ernte. [1 Punkt]
- 2) Berechnen Sie den Vitamin-C-Gehalt dieses Apfels 36 Wochen nach der Ernte. [1 Punkt]

- b) Der Vitamin-C-Gehalt von Tabletten der Sorte *Zitruspower* ist annähernd normalverteilt mit dem Erwartungswert $\mu = 100$ mg und der Standardabweichung $\sigma = 5$ mg.

- 1) Berechnen Sie die Wahrscheinlichkeit, dass der Vitamin-C-Gehalt einer zufällig ausgewählten Tablette zwischen 92 mg und 110 mg liegt. [1 Punkt]

- c) Nach der Einnahme einer Vitamin-C-Tablette steigt die Vitamin-C-Konzentration im Blut zunächst an und sinkt danach wieder ab.

Die Funktion c beschreibt näherungsweise den zeitlichen Verlauf der Vitamin-C-Konzentration im Blut einer bestimmten Person.

$$c(t) = 24 \cdot (e^{-0,0195 \cdot t} - e^{-1,3 \cdot t}) + 3$$

t ... Zeit seit der Einnahme der Vitamin-C-Tablette in h

$c(t)$... Vitamin-C-Konzentration im Blut zur Zeit t in Mikrogramm pro Milliliter ($\mu\text{g/ml}$)

- 1) Zeigen Sie, dass die maximale Vitamin-C-Konzentration im Blut der Person gerundet 25,18 $\mu\text{g/ml}$ beträgt. [1 Punkt]
- 2) Kreuzen Sie denjenigen Ausdruck an, der die maximale Vitamin-C-Konzentration in mg/L angibt. [1 aus 5] [1 Punkt]

0,02518 mg/L	<input type="checkbox"/>
25,18 mg/L	<input type="checkbox"/>
25 180 mg/L	<input type="checkbox"/>
0,00002518 mg/L	<input type="checkbox"/>
25 180 000 mg/L	<input type="checkbox"/>

Aufgabe 3

Glücksspiel

Bei einem Glücksspiel werden aus verschiedenen Gefäßen Kugeln zufällig gezogen.

- a) Im ersten Gefäß befinden sich insgesamt a Kugeln. 7 dieser Kugeln sind rot, die anderen Kugeln sind weiß.

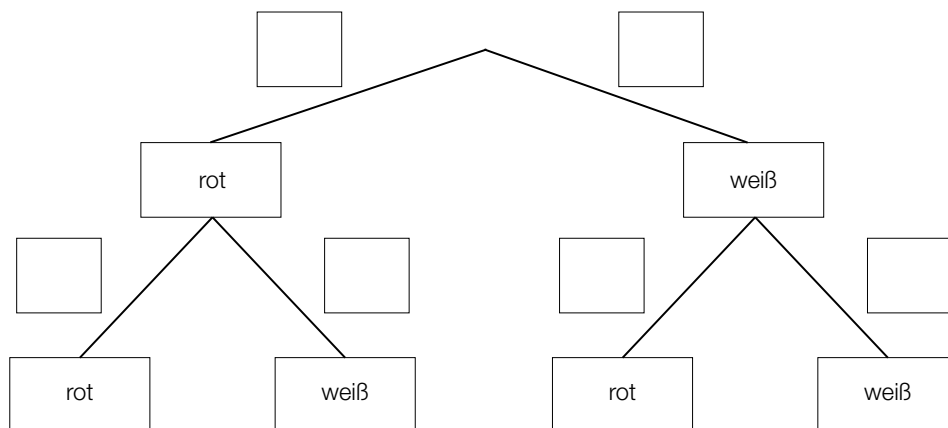
Es wird 1 Kugel aus diesem Gefäß gezogen.

- 1) Erstellen Sie mithilfe von a einen Ausdruck zur Berechnung der folgenden Wahrscheinlichkeit:

$$P(\text{„die gezogene Kugel ist weiß“}) = \underline{\hspace{10cm}} \quad [1 \text{ Punkt}]$$

Aus diesem Gefäß mit a Kugeln zieht Elena 1 Kugel und legt diese Kugel anschließend in das Gefäß zurück. Dann zieht sie wieder 1 Kugel.

- 2) Vervollständigen Sie das nachstehende Baumdiagramm so, dass es den beschriebenen Sachverhalt wiedergibt. [1 Punkt]



Die Wahrscheinlichkeit, dass Elena 2-mal eine rote Kugel zieht, beträgt 12,25 %.

- 3) Berechnen Sie die Anzahl a . [1 Punkt]

b) Im zweiten Gefäß befinden sich 6 schwarze und 2 blaue Kugeln.

Aus diesem Gefäß zieht Susi 1 Kugel und legt diese Kugel anschließend in das Gefäß zurück. Das macht sie insgesamt 5-mal.

1) Berechnen Sie die Wahrscheinlichkeit, dass Susi dabei genau 3-mal eine schwarze Kugel zieht. [1 Punkt]

c) Im dritten Gefäß befinden sich 12 Kugeln. 7 dieser Kugeln sind grün, die anderen Kugeln sind gelb.

Aus diesem Gefäß zieht Moritz 1 Kugel und legt diese Kugel anschließend in das Gefäß zurück. Das macht er insgesamt 3-mal.

1) Ergänzen Sie die Textlücken im folgenden Satz durch Ankreuzen so, dass eine korrekte Aussage entsteht. [Lückentext]

Die Wahrscheinlichkeit, dass _____ ① _____, ist durch den Ausdruck _____ ② _____ gegeben. [1 Punkt]

①	
alle 3 Kugeln grün sind	<input type="checkbox"/>
mindestens 1 Kugel grün ist	<input type="checkbox"/>
höchstens 1 Kugel grün ist	<input type="checkbox"/>

②	
$1 - \left(\frac{5}{12}\right)^3$	<input type="checkbox"/>
$1 - \left(\frac{7}{12}\right)^3$	<input type="checkbox"/>
$\left(\frac{5}{12}\right)^3$	<input type="checkbox"/>

Aufgabe 4

Bahnverkehr in Österreich

- a) Eine Bahnfahrt von Wien nach Graz dauert 2 Stunden und 35 Minuten. Die mittlere Reisegeschwindigkeit beträgt dabei rund 81,83 km/h. Im Jahr 2026 soll der Semmering-Basistunnel fertiggestellt werden. Dadurch wird sich die Fahrtstrecke um 13,7 Kilometer und die Fahrtdauer um 50 Minuten verkürzen.

- 1) Berechnen Sie die mittlere Reisegeschwindigkeit zwischen Wien und Graz für die verkürzte Fahrt. [2 Punkte]

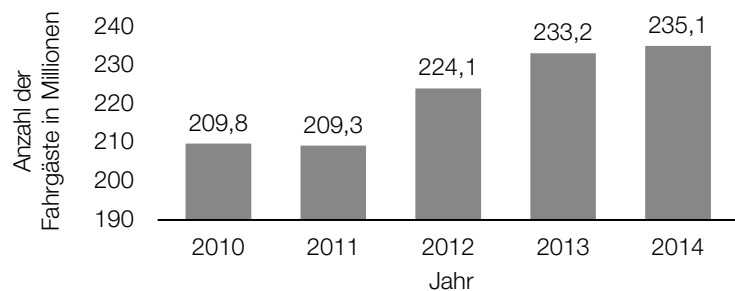
- b) Die Fahrtstrecke im Semmering-Basistunnel wird 27,3 Kilometer lang sein und eine (als konstant angenommene) Steigung von 0,84 % haben. In der folgenden Berechnung des Höhenunterschieds Δh in Metern auf dieser Fahrtstrecke ist genau ein Fehler passiert:

Steigungswinkel: $\alpha = \arctan(0,0084) = 0,48127\dots^\circ$

$$\Delta h = \frac{27\,300 \text{ m}}{\sin(\alpha)} = 3\,250\,114,6\dots \text{ m}$$

- 1) Stellen Sie die Berechnung und das Ergebnis richtig. [1 Punkt]

- c) Im nachstehenden Diagramm sind die Fahrgastzahlen der Österreichischen Bundesbahnen für die Jahre 2010 bis 2014 dargestellt.



Datenquelle: Agentur für Passagier- und Fahrgastrechte (Hrsg.): *Fahrgastrechte-Statistik Bahn 2014*, 2016, S. 4.
<https://www.apf.gv.at/files/1-apf-Homepage/1g-Publikationen/Fahrgastrechtestatistik-2014.pdf> [22.11.2018].

- 1) Berechnen Sie die Spannweite der angegebenen Fahrgastzahlen in Millionen. [1 Punkt]

Es wird folgende Berechnung durchgeführt:

$$\frac{235,1 - 209,8}{209,8} \approx 0,12$$

- 2) Interpretieren Sie das Ergebnis dieser Berechnung im gegebenen Sachzusammenhang.

[1 Punkt]

Aufgabe 5

Sonnenaufgang

- a) Während der Morgendämmerung wird es kontinuierlich heller. Die Beleuchtungsstärke bei klarem Himmel kann an einem bestimmten Ort in Abhängigkeit von der Zeit näherungsweise durch folgende Exponentialfunktion E beschrieben werden:

$$E(t) = 80 \cdot a^t \text{ mit } -60 \leq t \leq 30$$

t ... Zeit in min, wobei $t = 0$ der Zeitpunkt des Sonnenaufgangs ist

$E(t)$... Beleuchtungsstärke zur Zeit t in Lux

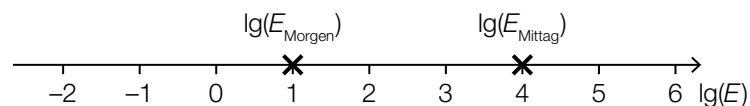
a ... Parameter

- 1) Interpretieren Sie die Zahl 80 in der Funktionsgleichung von E im gegebenen Sachzusammenhang. [1 Punkt]

Die Beleuchtungsstärke verdoppelt sich alle 5 min.

- 2) Berechnen Sie den Parameter a . [1 Punkt]

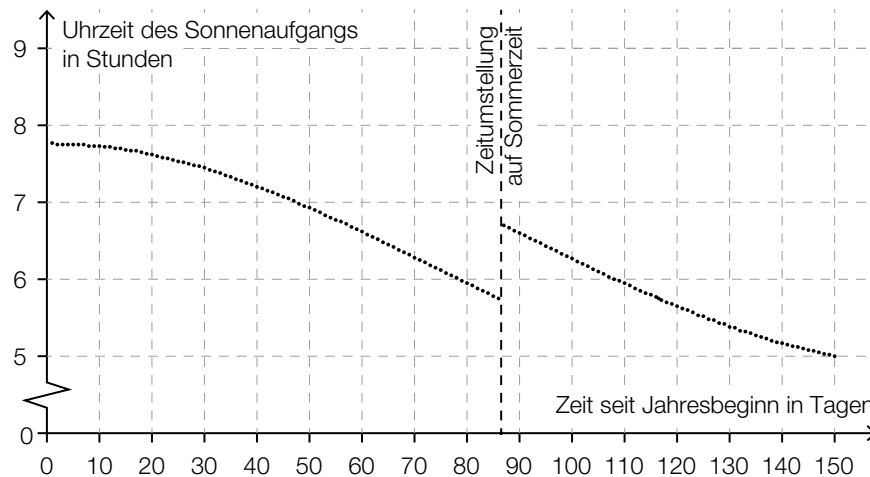
- b) An einem Wintertag wurde die Beleuchtungsstärke E in Lux am Morgen und zu Mittag gemessen. Die dekadischen Logarithmen (Logarithmen zur Basis 10) der beiden Messergebnisse sind nachstehend dargestellt:



Marco behauptet, die Beleuchtungsstärke E sei an diesem Tag zu Mittag 4-mal so hoch wie am Morgen gewesen.

- 1) Zeigen Sie, dass Marcos Behauptung falsch ist. [1 Punkt]

- c) In der nachstehenden Grafik ist die jeweilige Uhrzeit des Sonnenaufgangs in Wien für die ersten 150 Tage eines Jahres dargestellt.



- 1) Ermitteln Sie mithilfe der obigen Grafik, wie viele Tage nach der Zeitumstellung der Sonnenaufgang erstmals zu einer früheren Uhrzeit als unmittelbar vor der Zeitumstellung stattfindet. [1 Punkt]

Im Zeitintervall $[0; 40]$ kann die Uhrzeit des Sonnenaufgangs näherungsweise durch eine quadratische Funktion f modelliert werden.

$$f(t) = a \cdot t^2 + c$$

t ... Zeit seit Jahresbeginn in Tagen

$f(t)$... Uhrzeit des Sonnenaufgangs am Tag t in Stunden

- 2) Argumentieren Sie anhand der obigen Grafik, dass der Parameter a dabei negativ sein muss. [1 Punkt]

Aufgabe 6 (Teil B)

Gastwirtschaft

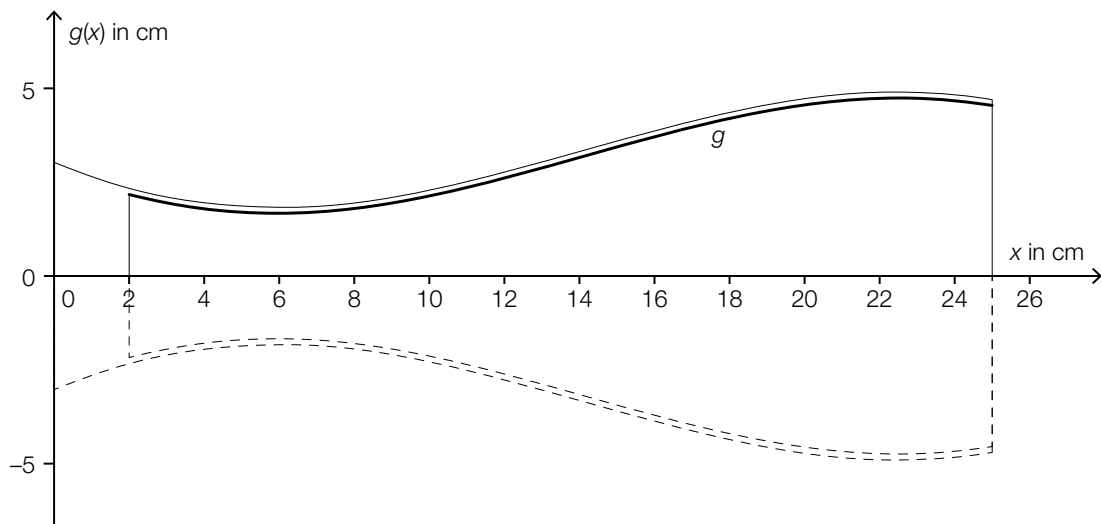
- a) Automatische Abfüllanlagen für Getränke sollen möglichst gleichmäßige Füllmengen gewährleisten.

Die Füllmenge bei einer bestimmten Abfüllanlage ist annähernd normalverteilt mit dem Erwartungswert $\mu = 500$ ml und der Standardabweichung $\sigma = 4,5$ ml.

Die Füllmenge wird mithilfe einer Stichprobe des Umfangs n überprüft.

- 1) Berechnen Sie für $n = 10$ den zum Erwartungswert symmetrischen Zufallsstreuungsbereich, in dem erwartungsgemäß 99 % aller Stichprobenmittelwerte liegen. [1 Punkt]
- 2) Begründen Sie, warum das Maximum der Dichtefunktion der Stichprobenmittelwerte \bar{X} für $n = 5$ kleiner als jenes für $n = 10$ ist. [1 Punkt]

- b) Die Form eines Weizenbierglases kann näherungsweise durch die Rotation des Graphen der Funktion g um die x -Achse dargestellt werden (siehe nachstehende Abbildung).



Es gilt:

$$g(x) = -0,00108 \cdot x^3 + 0,046 \cdot x^2 - 0,4367 \cdot x + 3 \quad \text{mit } 2 \leq x \leq 25$$

$x, g(x)$... Koordinaten in cm

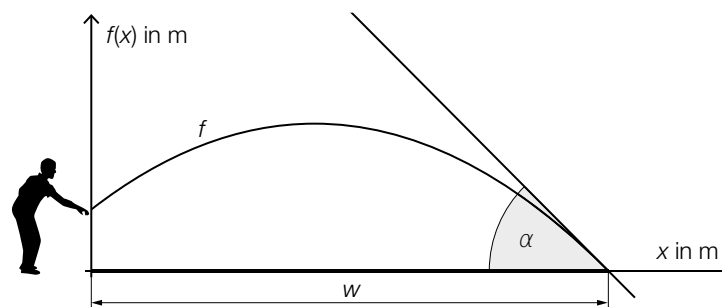
- 1) Berechnen Sie den kleinsten Innendurchmesser des Weizenbierglases. [1 Punkt]
- 2) Berechnen Sie das Füllvolumen des Weizenbierglases in Litern. [1 Punkt]

Aufgabe 7 (Teil B)

Boule

Boule ist eine Sportart, bei der Kugeln geworfen werden. Ziel ist es, mit den eigenen Kugeln möglichst nah an eine Zielkugel zu gelangen.

- a) Peter wirft eine Kugel. Die Flugbahn dieser Kugel kann näherungsweise durch den Graphen der Funktion f beschrieben werden (siehe nachstehende Abbildung).



$$f(x) = -0,0959 \cdot x^2 + 0,767 \cdot x + 1,1$$

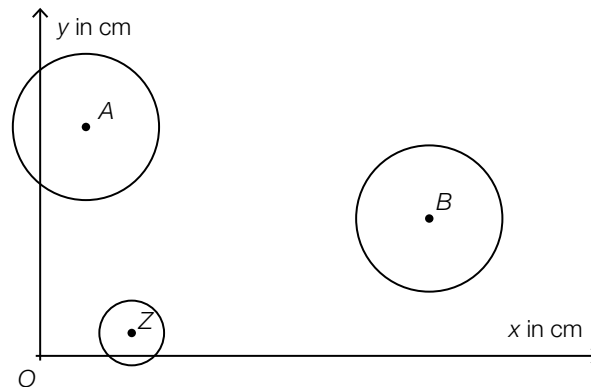
$x, f(x)$... Koordinaten in m

- 1) Interpretieren Sie die Bedeutung der Zahl 1,1 in der obigen Funktionsgleichung im gegebenen Sachzusammenhang. [1 Punkt]
- 2) Berechnen Sie die Wurflänge w . [1 Punkt]

Peter möchte, dass der Aufprallwinkel α der Kugel im Intervall $[42^\circ; 44^\circ]$ liegt.

- 3) Überprüfen Sie mithilfe der Differenzialrechnung, ob der Aufprallwinkel α in diesem Intervall liegt. [1 Punkt]

- b) Für eine genauere Analyse eines Boule-Spiels wird mithilfe einer Drohne ein Luftbild aufgenommen.



$A = (2 | 10)$... Auflagepunkt der ersten Kugel
 $B = (17 | 6)$... Auflagepunkt der zweiten Kugel
 $Z = (4 | 1)$... Auflagepunkt der Zielkugel

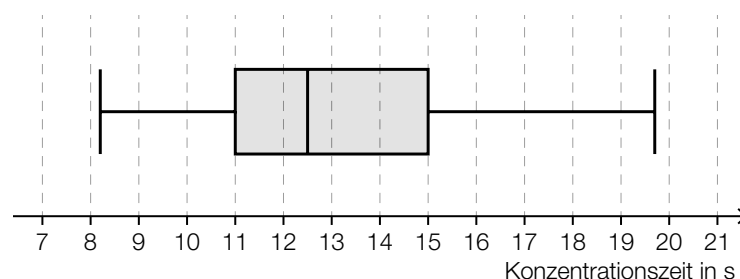
- 1) Berechnen Sie die Länge der Strecke BZ . [1 Punkt]

Während des Spiels bewegt sich die erste Kugel entlang der Strecke AB 3 cm in Richtung B .

- 2) Berechnen Sie die Koordinaten der neuen Position des Auflagepunkts der ersten Kugel. [2 Punkte]

- c) Die Zeit, die benötigt wird, um sich vor einem Wurf zu konzentrieren, nennt man Konzentrationszeit.

Im nachstehenden Boxplot sind die Konzentrationszeiten von Emma bei mehreren Würfeln zusammengefasst.

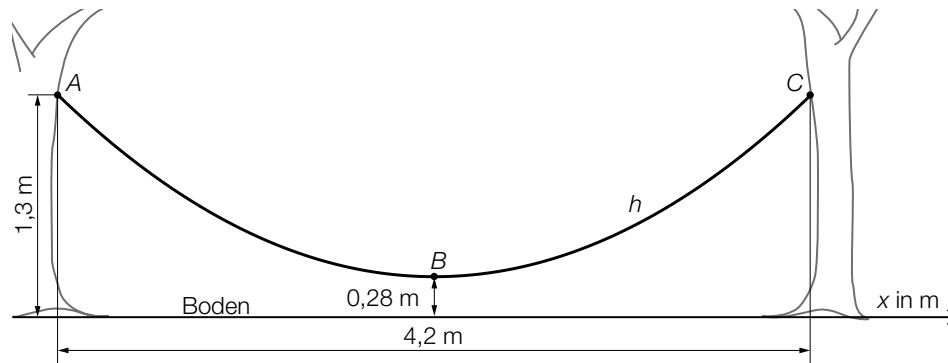


- 1) Lesen Sie aus dem Boxplot den Interquartilsabstand der Konzentrationszeiten von Emma ab. [1 Punkt]

Aufgabe 8 (Teil B)

Hängematten

- a) Der Graph der quadratischen Funktion h mit $h(x) = a \cdot x^2 + b \cdot x + c$ beschreibt näherungsweise den Durchhang einer Hängematte (siehe nachstehende Abbildung).

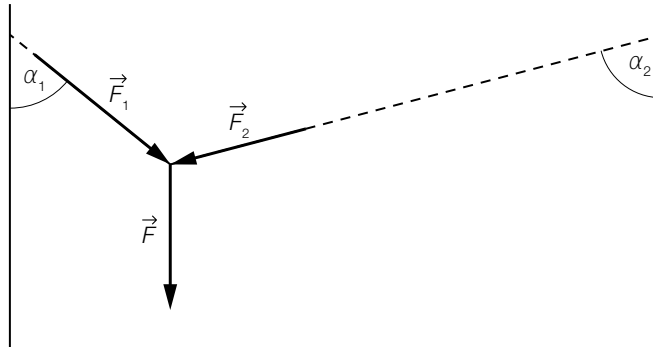


$x, h(x)$... Koordinaten in m

Der Graph der Funktion h verläuft durch die Befestigungspunkte A und C. Der Scheitelpunkt von h wird mit B bezeichnet. Die Punkte A und C liegen auf gleicher Höhe über dem Boden.

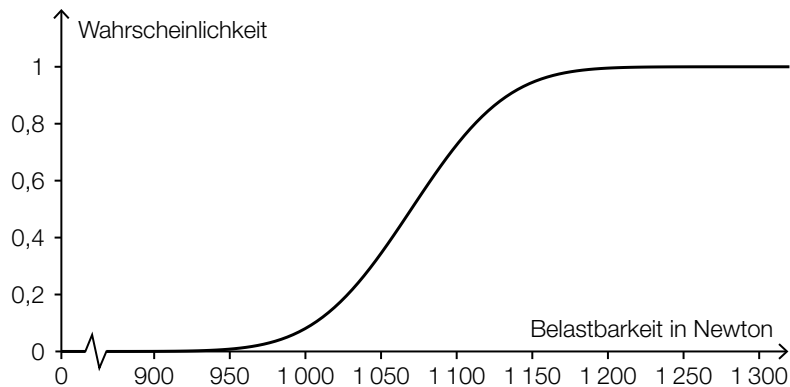
- 1) Zeichnen Sie in der obigen Abbildung die fehlende senkrechte Koordinatenachse so ein, dass für den Koeffizienten b gilt: $b = 0$ [1 Punkt]
- 2) Berechnen Sie den Koeffizienten a . [1 Punkt]

- b) Eine Hängematte wird an zwei senkrechten Stangen befestigt. In der nachstehenden Abbildung ist die belastete Hängematte modellhaft dargestellt. Es wirkt eine Kraft \vec{F} mit $|\vec{F}| = 800$ Newton (N) senkrecht nach unten. Die Kraft \vec{F} wird in die Komponenten \vec{F}_1 und \vec{F}_2 zerlegt.



Es gilt: $\alpha_1 = 50^\circ$ und $\alpha_2 = 75^\circ$

- 1) Veranschaulichen Sie in der obigen Abbildung die Kräftezerlegung mithilfe eines Kräfteparallelogramms. [1 Punkt]
 - 2) Berechnen Sie $|\vec{F}_1|$. [1 Punkt]
- c) Die Belastbarkeit von Seilen eines bestimmten Herstellers kann näherungsweise als normalverteilt angenommen werden. Das nachstehende Diagramm zeigt den Graphen der zugehörigen Verteilungsfunktion.



- 1) Veranschaulichen Sie im obigen Diagramm die Wahrscheinlichkeit, dass die Belastbarkeit eines zufällig ausgewählten Seiles mindestens 1050 Newton (N) beträgt. [1 Punkt]

Die Maschine zur Herstellung der Seile soll bei gleichbleibender Standardabweichung $\sigma = 50$ N auf einen neuen Erwartungswert μ_{neu} eingestellt werden, sodass nur bei 1 Promille der Seile die Belastbarkeit weniger als 1000 N beträgt.

- 2) Berechnen Sie, auf welchen Erwartungswert μ_{neu} die Maschine eingestellt werden muss. [1 Punkt]

Aufgabe 9 (Teil B)

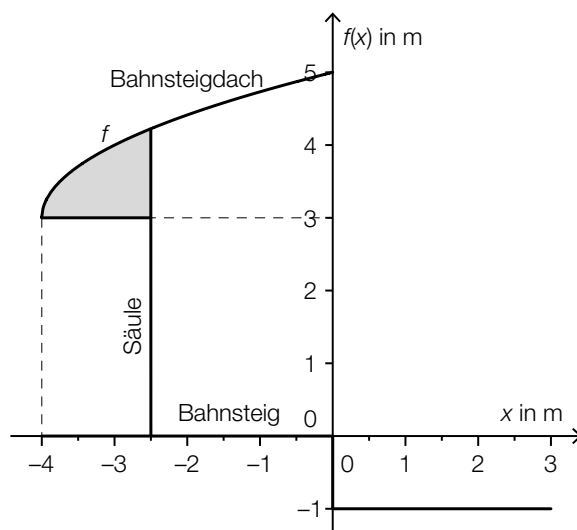
Bahnsteige

- a) Auf dem Bahnhof Linz wird eine Betonkonstruktion zur Überdachung eines Bahnsteigs verwendet.



Bildquelle: BMBWF

Die nebenstehende Abbildung zeigt eine vereinfachte Darstellung der Betonkonstruktion.



- 1) Erstellen Sie eine Formel zur Berechnung des Inhalts A der grau markierten Fläche.

$$A = \underline{\hspace{10cm}}$$

[1 Punkt]

Der in der obigen Abbildung dargestellte Graph der Funktion f wird beschrieben durch:

$$f(x) = \sqrt{x-a} + b \text{ mit } x \geq a$$

$x, f(x)$... Koordinaten in m

a, b ... Parameter

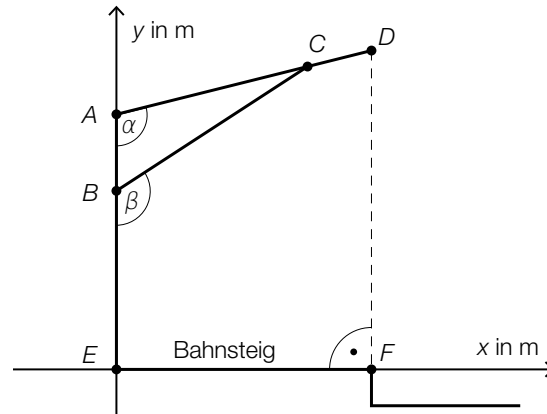
- 2) Lesen Sie aus der obigen Abbildung die Parameter a und b der Funktion f ab.

$$a = \underline{\hspace{10cm}}$$

$$b = \underline{\hspace{10cm}}$$

[1 Punkt]

- b) In der nachstehenden Skizze ist eine Holzkonstruktion zur Überdachung eines Bahnsteigs dargestellt.



- 1) Erstellen Sie mithilfe von \overline{AE} , \overline{AD} und α eine Formel zur Berechnung von \overline{DF} .

$$\overline{DF} = \underline{\hspace{10cm}}$$

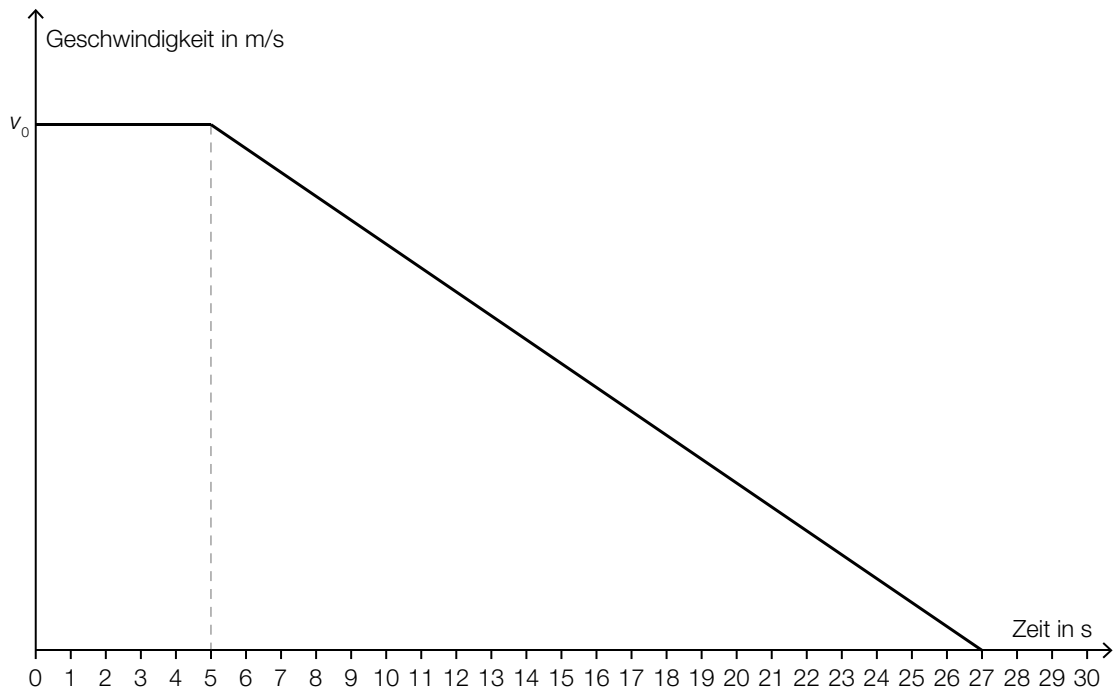
[1 Punkt]

Es gilt: $A = (0|4)$, $B = (0|2,8)$, $\alpha = 104^\circ$ und $\beta = 123^\circ$

- 2) Berechnen Sie die Länge \overline{BC} .

[1 Punkt]

- c) Die Geschwindigkeit eines Zuges bei der Einfahrt in einen Bahnhof ist im unten stehenden Geschwindigkeit-Zeit-Diagramm modellhaft dargestellt.
In den ersten 5 s ist die Geschwindigkeit des Zuges gleich v_0 . Anschließend nimmt die Geschwindigkeit des Zuges linear ab. Die Einfahrt dauert insgesamt 27 s. Dabei legt der Zug insgesamt 240 m zurück.



- 1) Bestimmen Sie die Geschwindigkeit v_0 . [1 Punkt]
- 2) Erstellen Sie eine Gleichung der linearen Geschwindigkeit-Zeit-Funktion im Zeitintervall $[5; 27]$. [1 Punkt]

