

Name:	
Klasse/Jahrgang:	



Standardisierte kompetenzorientierte
schriftliche Reife- und Diplomprüfung

BHS

12. Jänner 2017

Angewandte Mathematik

Teil A + Teil B (Cluster 9)



Hinweise zur Aufgabenbearbeitung

Liebe Kandidatin! Lieber Kandidat!

Das vorliegende Aufgabenheft enthält 5 Teil-A-Aufgaben und 4 Teil-B-Aufgaben mit jeweils unterschiedlich vielen Teilaufgaben. Die Teilaufgaben sind unabhängig voneinander bearbeitbar. Ihnen stehen insgesamt 270 Minuten an reiner Arbeitszeit für Teil A und Teil B zur Verfügung.

Verwenden Sie für die Bearbeitung einen nicht radierbaren, blau oder schwarz schreibenden Stift. Bei Konstruktionsaufgaben ist auch die Verwendung eines Bleistifts möglich.

Verwenden Sie für die Bearbeitung ausschließlich das Aufgabenheft und die Ihnen zur Verfügung gestellten Antwortblätter. Schreiben Sie Ihren Namen in das dafür vorgesehene Feld auf der ersten Seite des Aufgabenheftes und auf jedes Antwortblatt. Geben Sie bei der Beantwortung jeder Teilaufgabe deren Bezeichnung (z. B.: 3c) an.

In die Beurteilung wird alles einbezogen, was nicht durchgestrichen ist. Streichen Sie Notizen durch.

Die Verwendung von durch die Schulbuchaktion approbierten Formelheften und von elektronischen Hilfsmitteln (z. B. grafikfähige Taschenrechner oder andere entsprechende Technologie) ist erlaubt, sofern keine Kommunikationsmöglichkeit (z. B. via Internet, Intranet, Bluetooth, Mobilfunknetzwerke etc.) gegeben ist und keine Eigendaten in die elektronischen Hilfsmittel implementiert sind. Handbücher zu den elektronischen Hilfsmitteln sind in der Original-Druckversion oder in im elektronischen Hilfsmittel integrierter Form zulässig.

Abzugeben sind das Aufgabenheft und alle von Ihnen verwendeten Antwortblätter.

Handreichung für die Bearbeitung der SRDP in Angewandter Mathematik

- Jede Berechnung ist mit einem nachvollziehbaren Rechenansatz und einer nachvollziehbaren Dokumentation des Technologieeinsatzes (die verwendeten Ausgangsparameter und die verwendete Technologiefunktion müssen angegeben werden) durchzuführen.
- Selbst gewählte Variablen sind zu erklären und gegebenenfalls mit Einheiten zu benennen.
- Ergebnisse sind eindeutig hervorzuheben.
- Ergebnisse sind mit entsprechenden Einheiten anzugeben.
- Werden Diagramme oder Skizzen als Lösungen erstellt, so sind die Achsen zu skalieren und zu beschriften.
- Werden geometrische Skizzen erstellt, so sind die lösungsrelevanten Teile zu beschriften.
- Vermeiden Sie frühzeitiges Runden.
- Legen Sie allfällige Computerausdrucke der Lösung mit Ihrem Namen beschriftet bei.
- Wird eine Aufgabe mehrfach gerechnet, so sind alle Lösungswege bis auf einen zu streichen.

Es gilt folgender Beurteilungsschlüssel:

43–48 Punkte	Sehr gut
37–42 Punkte	Gut
31–36 Punkte	Befriedigend
21–30 Punkte	Genügend
0–20 Punkte	Nicht genügend

Erläuterung der Antwortformate

Die Teilaufgaben haben *offene Antwortformate*, *halboffene Antwortformate* oder *Konstruktionsformate*.

Offenes Antwortformat: Hierbei kann die Bearbeitung der Aufgaben auf unterschiedliche Weise erfolgen, z. B. durch eine Berechnung, durch Erstellung einer Grafik etc.

Halboffenes Antwortformat: Ein Teil der Antwort ist vorgegeben, der fehlende Teil soll ergänzt werden (Formel, Funktion etc.).

Beispiel:

Gegeben ist ein Rechteck mit den Seitenlängen a und b .

– Erstellen Sie eine Formel zur Berechnung des Flächeninhalts A dieses Rechtecks.

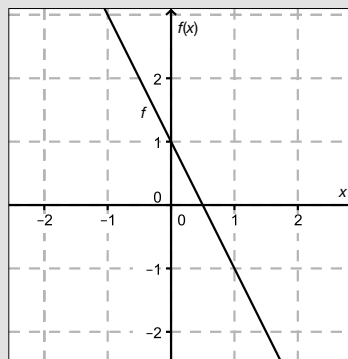
$$A = \underline{a \cdot b}$$

Konstruktionsformat: Ein Diagramm oder eine Grafik ist vorgegeben. Die Aufgabenstellung erfordert die Ergänzung von Punkten und/oder Geraden und/oder Kurven und/oder Skalierungen bzw. Achsenbeschriftungen im Diagramm bzw. in der Grafik.

Beispiel:

Gegeben ist eine lineare Funktion f mit $f(x) = k \cdot x + d$.

– Zeichnen Sie den Graphen einer linearen Funktion mit $k = -2$ und $d > 0$ im nachstehenden Koordinatensystem ein.



Viel Erfolg!

Aufgabe 1

Körpergröße

An einer Universität werden Daten zur Körpergröße der männlichen Sport-Studenten erhoben.

a) Die Körpergröße von 10 zufällig ausgewählten Studenten wird gemessen.

Körpergröße in cm	168	169	171	174	179	181	182	183	188	191
-------------------	-----	-----	-----	-----	-----	-----	-----	-----	-----	-----

– Berechnen Sie den arithmetischen Mittelwert und die Standardabweichung der Körpergrößen. [1 Punkt]

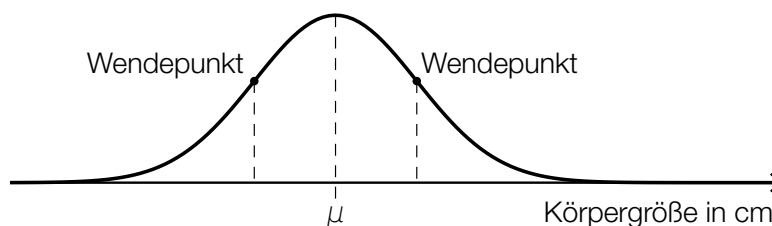
Bei der Weiterverarbeitung der Daten wurde aufgrund eines Tippfehlers anstelle eines Messwerts aus der obigen Tabelle eine Körpergröße von mehr als 1 000 cm eingegeben. Dadurch ändert sich der Median von 180,0 cm auf 181,5 cm.

– Geben Sie diejenigen Messwerte an, die für diese fehlerhafte Eingabe in Frage kommen. [1 Punkt]

b) Man nimmt an, dass die Körpergröße der Studenten mit einem Erwartungswert von $\mu = 178,0$ cm und einer Standardabweichung von $\sigma = 6,5$ cm annähernd normalverteilt ist.

– Berechnen Sie diejenige Körpergröße, die von einem zufällig ausgewählten Studenten mit einer Wahrscheinlichkeit von 80 % überschritten wird. [1 Punkt]

– Veranschaulichen Sie in der nachstehenden Abbildung der Dichtefunktion dieser Normalverteilung die Wahrscheinlichkeit, dass die Körpergröße eines zufällig ausgewählten Studenten im Intervall [165; 191] liegt. [1 Punkt]



Aufgabe 2

Vernetzte Welt

- a) Zu Beginn des Jahres 2005 gab es weltweit 5,5 Millionen Personen, die im Internet ein bestimmtes soziales Netzwerk verwendeten. Die Anzahl der Nutzer/innen nahm exponentiell zu. Zu Beginn des Jahres 2011 verwendeten bereits 820 Millionen Personen dieses soziale Netzwerk. Die Anzahl der Personen, die dieses soziale Netzwerk verwenden, soll durch eine Funktion F beschrieben werden.

– Erstellen Sie eine Gleichung dieser Funktion F .

t ... Zeit in Jahren, $t = 0$ entspricht dem Beginn des Jahres 2005

$F(t)$... Anzahl der Personen, die das soziale Netzwerk zur Zeit t verwenden, in Millionen

[1 Punkt]

- b) Nach einer Faustregel der Technologiebranche verdoppelt sich die Geschwindigkeit von Computerprozessoren alle 18 Monate. In einem Buch wird behauptet, dass demnach die Computerprozessoren im Jahr 2025 etwa 64-mal so schnell sein werden wie im Jahr 2013.*

– Überprüfen Sie nachweislich, ob diese Behauptung richtig ist.

[1 Punkt]

- c) Die Bauteile eines elektronischen Systems haben innerhalb eines Jahres unabhängig voneinander eine konstante Ausfallwahrscheinlichkeit von 2 %.

Das elektronische System fällt aus, wenn mindestens 1 Bauteil ausfällt.

– Berechnen Sie, mit welcher Wahrscheinlichkeit ein elektronisches System, in dem 10 Bauteile vernetzt sind, innerhalb eines Jahres ausfällt.

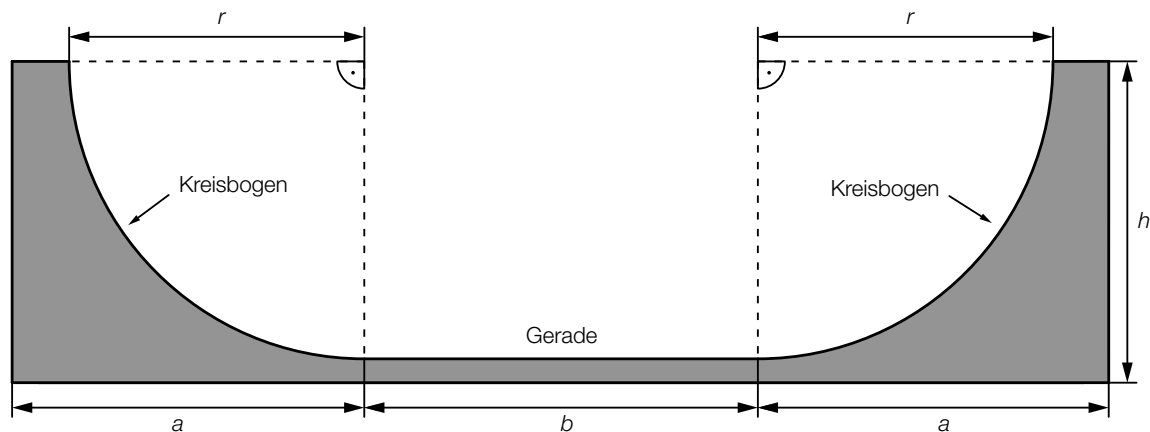
[1 Punkt]

* Vgl. Schmidt, E. & Cohen, J. (2013). *Die Vernetzung der Welt. Ein Blick in unsere Zukunft*. Hamburg: Rowohlt. S. 15.

Aufgabe 3

Skatepark

a) Folgende Grafik zeigt den Entwurf einer Halfpipe im Querschnitt:



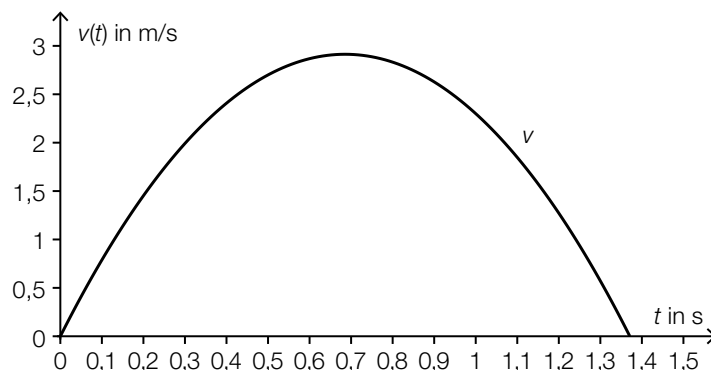
– Erstellen Sie eine Formel für die Berechnung des Flächeninhalts A der grauen Fläche (Querschnittsfläche) aus a , b , h und r .

$A =$ _____ [1 Punkt]

Die Halfpipe soll aus Beton gefertigt werden. Die Dichte von Beton wird häufig in den Einheiten Tonnen pro Kubikmeter (t/m^3) oder Gramm pro Kubikzentimeter (g/cm^3) angegeben.

– Zeigen Sie, dass sich bei der Umwandlung von t/m^3 in g/cm^3 die Maßzahl nicht verändert. [1 Punkt]

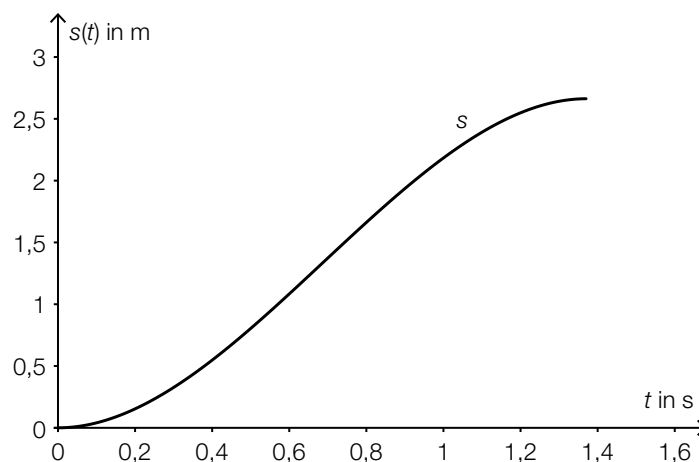
b) Die Geschwindigkeit einer Skaterin in Abhängigkeit von der Zeit lässt sich näherungsweise mithilfe der Funktion v beschreiben. Der Graph dieser Funktion ist in der nachstehenden Abbildung dargestellt.



– Veranschaulichen Sie in der obigen Abbildung denjenigen Weg, den die Skaterin zwischen $t = 0,5$ s und $t = 1$ s zurücklegt. [1 Punkt]

– Beschreiben Sie die Bedeutung von $v'(0,3)$ im gegebenen Sachzusammenhang. [1 Punkt]

- c) Der zurückgelegte Weg eines Skaters in Abhängigkeit von der Zeit lässt sich näherungsweise mithilfe der Funktion s beschreiben. Der Graph dieser Funktion ist in der nachstehenden Abbildung dargestellt.



– Ermitteln Sie die mittlere Geschwindigkeit zwischen $t = 0,6$ s und $t = 1,2$ s. [1 Punkt]

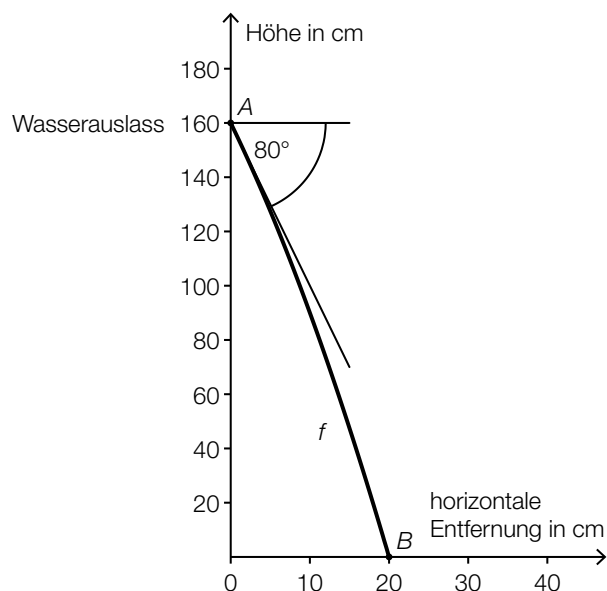
- d) Im Skatepark steht Trinkwasser zur Verfügung. An einer Wand ist ein Wasserauslass montiert, aus dem unter einem Tiefenwinkel von 80° ein Wasserstrahl austritt. Der Verlauf des Wasserstrahls kann näherungsweise durch den Graphen einer Funktion f dargestellt werden:

$$f(x) = a \cdot x^2 + b \cdot x + c$$

x ... horizontale Entfernung von der Wand in Zentimetern (cm)

$f(x)$... Höhe an der Stelle x in cm

Der Graph der Funktion f ist im nachstehenden Diagramm dargestellt.



– Stellen Sie ein Gleichungssystem auf, mit dem die Koeffizienten a , b und c der Funktion f ermittelt werden können. Verwenden Sie dabei die Punkte A und B sowie den angegebenen Winkel. [2 Punkte]

Aufgabe 4

Windräder

- a) Die vom Hersteller eines Windrads angegebene Nennleistung kann in einer vereinfachten Form durch folgende Formel berechnet werden:

$$P_N = c \cdot A$$

P_N ... Nennleistung in Megawatt (MW)

A ... Flächeninhalt der von den Rotoren des Windrads überstrichenen Kreisfläche in Quadratmetern (m^2)

$$c = 0,169 \cdot 10^{-3} \text{ MW/m}^2$$

Ein Windrad hat eine Nennleistung von 0,85 MW.

- Berechnen Sie den Durchmesser der von den Rotoren des Windrads überstrichenen Kreisfläche. [1 Punkt]

- b) Die tatsächliche Leistung von Windrädern in Abhängigkeit von der Windgeschwindigkeit v kann näherungsweise durch die Funktion P beschrieben werden.

Der Graph dieser Funktion P und ihr Wendepunkt W sind in der unten stehenden Abbildung 1 dargestellt.

- Skizzieren Sie in der Abbildung 2 den Graphen der zugehörigen Ableitungsfunktion P' . [2 Punkte]

Abbildung 1

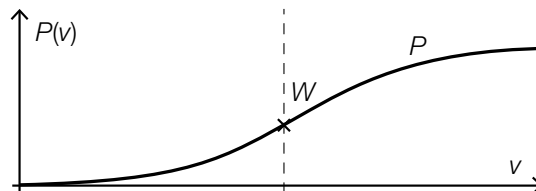
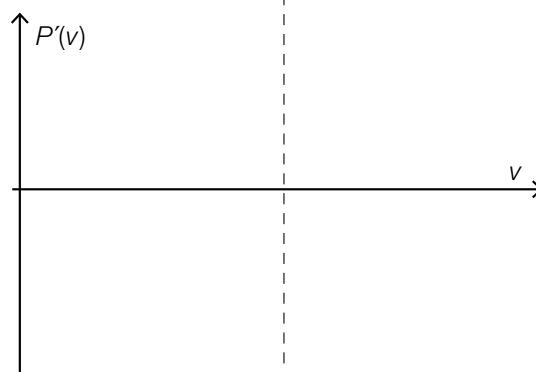


Abbildung 2



- c) Die tatsächliche Leistung eines bestimmten Windrads in Abhängigkeit von der Windgeschwindigkeit v kann für Windgeschwindigkeiten von 5 m/s bis 10 m/s näherungsweise durch die Polynomfunktion P beschrieben werden.

$$P(v) = 0,0175 \cdot v^2 - 0,0796 \cdot v + 0,0391 \quad \text{mit } 5 \leq v \leq 10$$

v ... Windgeschwindigkeit in Metern pro Sekunde (m/s)

$P(v)$... Leistung bei der Windgeschwindigkeit v in Megawatt (MW)

- Berechnen Sie, bei welcher Windgeschwindigkeit eine Leistung von 0,5 MW erzielt wird.

[1 Punkt]

- Beschreiben Sie, was mit der folgenden Rechnung im gegebenen Sachzusammenhang ermittelt wird:

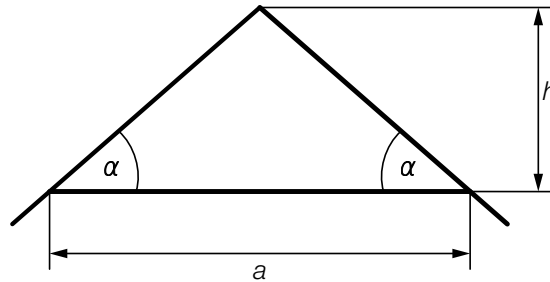
$$\frac{P(8) - P(7)}{P(7)}$$

[1 Punkt]

Aufgabe 5

Hausbau

- a) Der Querschnitt eines Dachstuhls ist in der nachstehenden Skizze vereinfacht dargestellt.

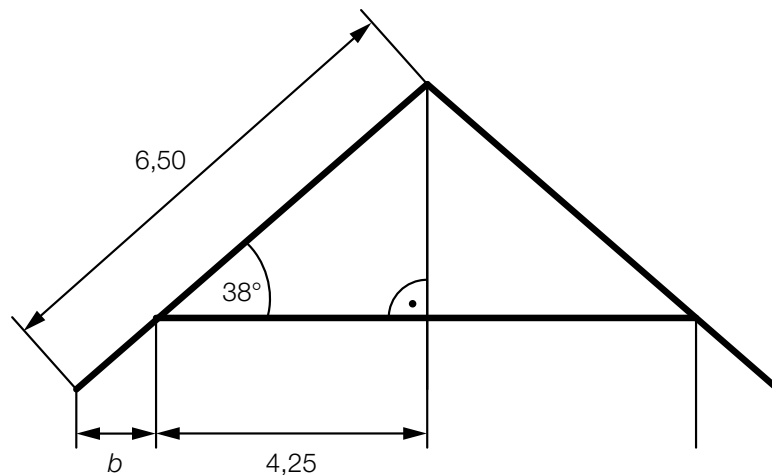


- Erstellen Sie eine Formel, mit der man den Winkel α aus a und h berechnen kann.

$\alpha =$ _____ [1 Punkt]

- Berechnen Sie den Winkel α für $a = 7$ m und $h = 220$ cm. [1 Punkt]

- b) Der Querschnitt eines Dachstuhls ist in der nachstehenden Skizze vereinfacht dargestellt. Alle Längen sind in Metern angegeben.



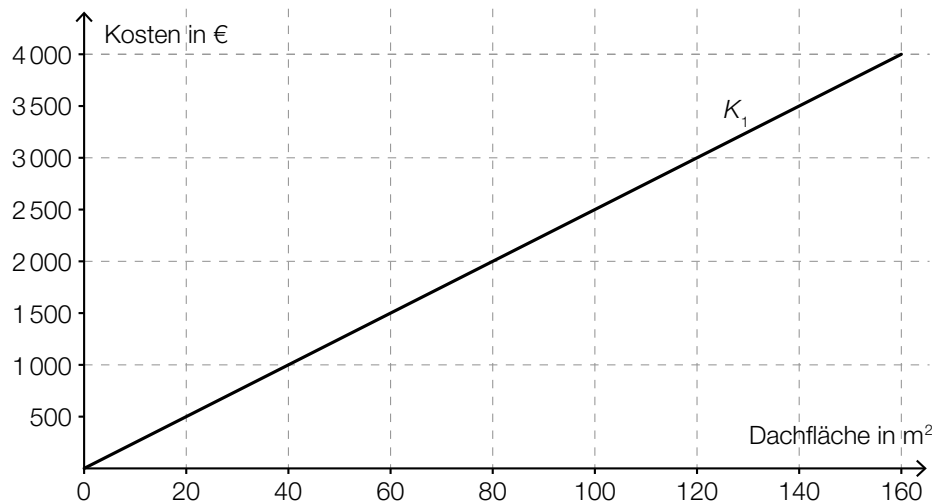
- Berechnen Sie b . [2 Punkte]

c) Zwei Unternehmen legen ihre Angebote für das Eindecken von Einfamilienhäusern vor:

Angebot 1: Das Angebot des ersten Anbieters ist in der unten stehenden Abbildung als Graph der Kostenfunktion K_1 dargestellt.

Angebot 2: Die Kosten betragen € 20 je m^2 Dachfläche, dazu kommen mengenunabhängige Lieferkosten von € 500.

– Zeichnen Sie in der nachstehenden Abbildung den Graphen der Kostenfunktion K_2 für das Angebot 2 im Intervall $[0; 160]$ ein. [1 Punkt]



– Lesen Sie aus der obigen Abbildung ab, welches Angebot bei einer Dachfläche von 120 m^2 kostengünstiger ist. [1 Punkt]

Aufgabe 6 (Teil B)

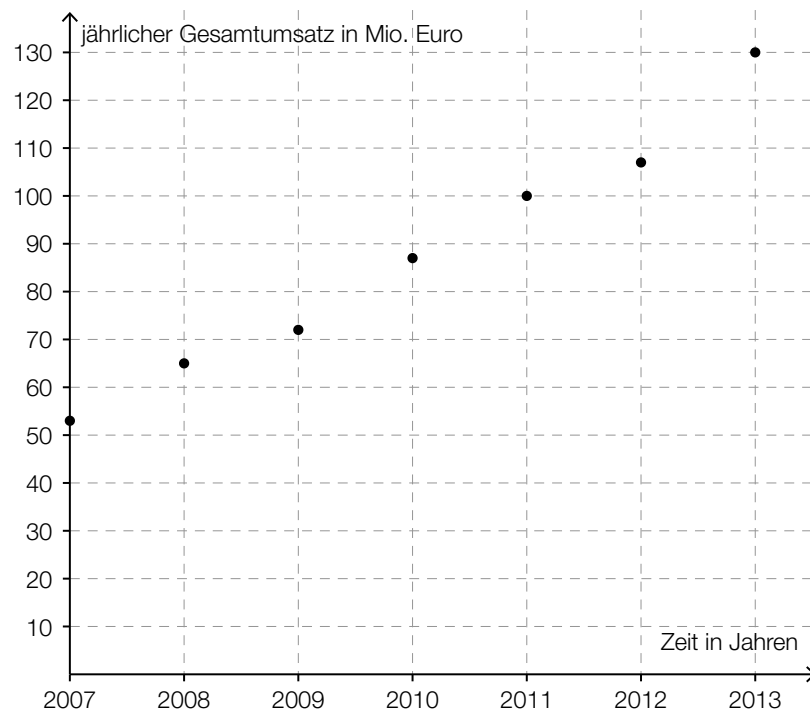
Fairtrade

Der Gesamtumsatz von Fairtrade-Produkten in Österreich ist in den letzten Jahren deutlich gestiegen:

Jahr	2007	2008	2009	2010	2011	2012	2013
jährlicher Gesamtumsatz in Millionen (Mio.) Euro	53	65	72	87	100	107	130

Quelle: http://www.fairtrade.at/fileadmin/AT/Materialien/2013_FAIRTRADE_Inside_Zahlen_Fakten.pdf [05.09.2016].

a) Die nachstehende Abbildung zeigt diese Gesamtumsatzentwicklung.



Der jährliche Gesamtumsatz soll in Abhängigkeit von der Zeit beschrieben werden.

- Ermitteln Sie mithilfe der gegebenen Daten eine Gleichung der zugehörigen linearen Regressionsfunktion. Wählen Sie $t = 0$ für das Jahr 2007. [1 Punkt]
- Zeichnen Sie den Graphen der Regressionsfunktion im obigen Koordinatensystem ein. [1 Punkt]
- Beurteilen Sie mithilfe des Korrelationskoeffizienten, ob die lineare Regressionsfunktion ein geeignetes Modell zur Beschreibung der Gesamtumsatzentwicklung ist. [1 Punkt]
- Berechnen Sie anhand dieses Modells den zu erwartenden jährlichen Gesamtumsatz im Jahr 2020. [1 Punkt]

- b) Betrachtet man nur den Zeitraum von 2009 bis 2013, so kann die Entwicklung des Gesamtumsatzes näherungsweise durch die Funktion f beschrieben werden:

$$f(t) = 13,6 \cdot t + 72$$

t ... Zeit in Jahren ab 2009 ($t = 0$ entspricht dem Jahr 2009)

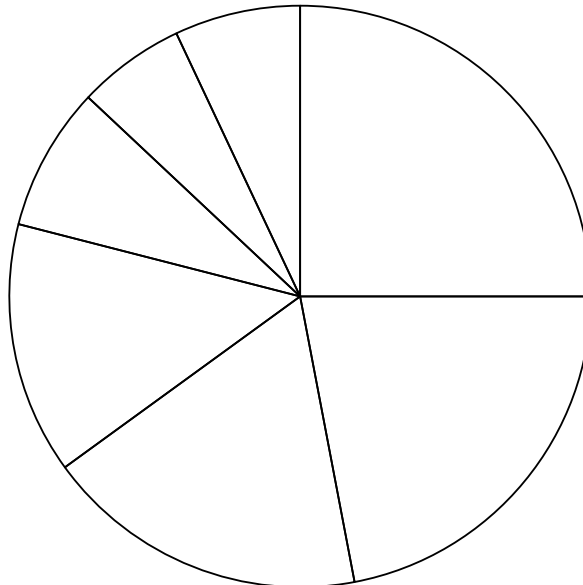
$f(t)$... jährlicher Gesamtumsatz zur Zeit t in Mio. Euro

- Interpretieren Sie den Wert der Steigung dieser Funktion im gegebenen Sachzusammenhang. [1 Punkt]

- c) Im Jahr 2012 teilte sich der Gesamtumsatz auf folgende 7 Bereiche auf:
Baumwolle, frische Früchte, Fruchtsäfte, Kaffee, Rosen, Süßwaren und Rest.

Der Umsatz an Kaffee betrug in diesem Jahr 18 % des Gesamtumsatzes.

- Kennzeichnen Sie im nachstehenden Diagramm denjenigen Sektor, der dem Umsatz an Kaffee entspricht. [1 Punkt]



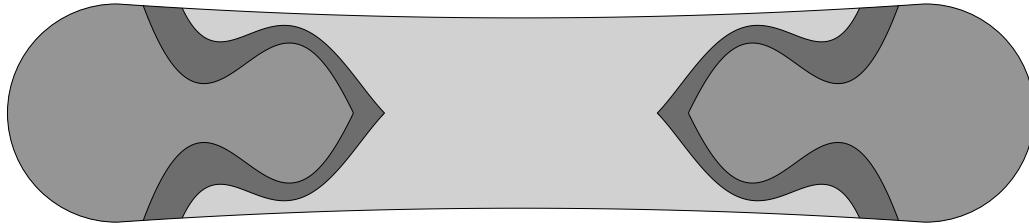
Der Umsatz an Süßwaren betrug 2012 etwa 24 Mio. Euro.

- Berechnen Sie, wie viel Prozent der Umsatz an Süßwaren in Bezug auf den Gesamtumsatz im Jahr 2012 (siehe Tabelle) betrug. [1 Punkt]

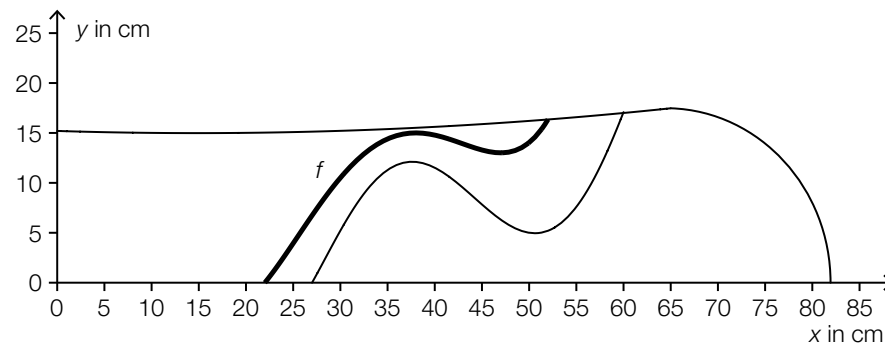
Aufgabe 7 (Teil B)

Snowboard

Das Design für ein Freestyle-Snowboard sieht folgendermaßen aus:



- a) Das Snowboard-Design setzt sich aus 4 zueinander symmetrischen Elementen zusammen. Eines dieser Elemente ist in folgender Grafik dargestellt:



Die in der obigen Grafik markierte Kurve kann als Graph einer Polynomfunktion 4. Grades mit $f(x) = a \cdot x^4 + b \cdot x^3 + c \cdot x^2 + d \cdot x + e$ dargestellt werden. Von dieser Funktion sind folgende Eigenschaften bekannt:

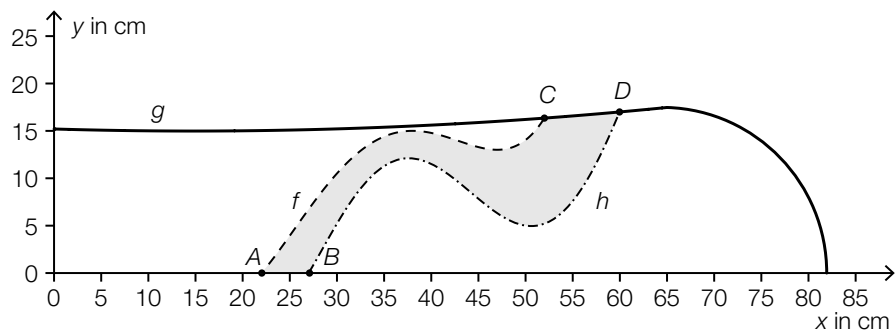
Bei $x = 22$ hat die Funktion f eine Nullstelle.

Der Punkt $(38|15)$ ist ein Hochpunkt.

Der Punkt $(47|13)$ ist ein Tiefpunkt.

- Stellen Sie ein Gleichungssystem auf, mit dem man die Koeffizienten dieser Polynomfunktion 4. Grades berechnen kann. [2 Punkte]

- b) Die geschwungene Farbfläche des Snowboards wird durch die Graphen der Funktionen f , g und h sowie die x -Achse begrenzt:



$$A = (22|0)$$

$$B = (27|0)$$

$$C = (52|16,5)$$

$$D = (60|17)$$

Im nachstehenden Ansatz zur Berechnung des Inhalts dieser grau markierten Fläche in cm^2 wurde eine Teilfläche nicht berücksichtigt.

$$A_1 = \int_{22}^{27} f(x) dx \quad A_2 = \int_{27}^{52} [f(x) - h(x)] dx$$

- Kennzeichnen Sie in der obigen Grafik die fehlende Teilfläche. [1 Punkt]
- Stellen Sie eine Formel zur Berechnung des Flächeninhalts A_3 dieser Teilfläche auf.

$$A_3 = \underline{\hspace{15em}}$$

[1 Punkt]

Aufgabe 8 (Teil B)

Silvesterlauf

- a) Die ebene Laufstrecke eines Silvesterlaufs startet bei A und führt in geradlinigen Streckenabschnitten über die Kontrollpunkte B , C und D zum Ziel E . Die Koordinaten dieser Punkte (in km) in einem rechtwinkligen Koordinatensystem sind angegeben:

Ausgangspunkt $A = (-1|1)$

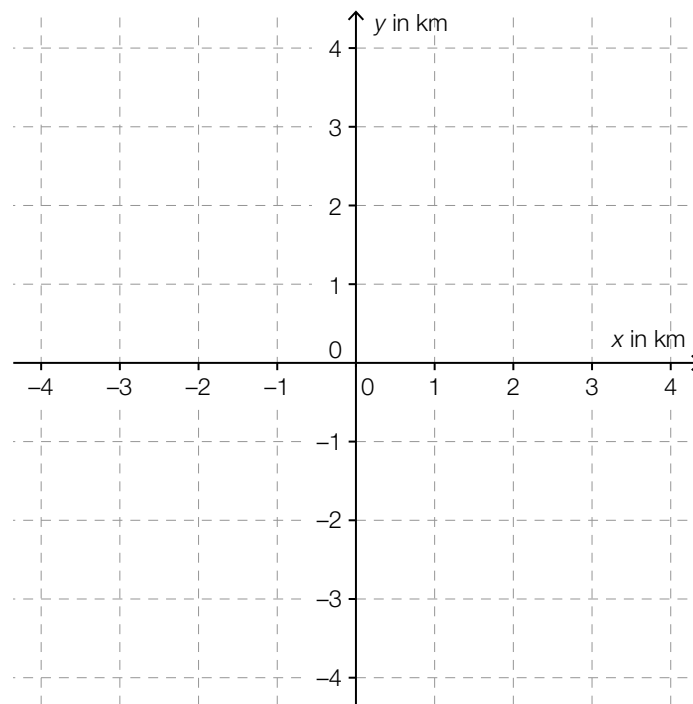
1. Kontrollpunkt $B = (1|3)$

2. Kontrollpunkt $C = (2|-2)$

3. Kontrollpunkt $D = (1|-2)$

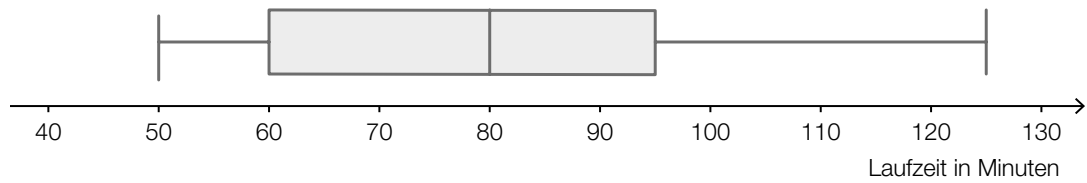
Zielpunkt $E = (1|1)$

- Veranschaulichen Sie diese Laufstrecke im nachstehenden Koordinatensystem. [1 Punkt]



- Erklären Sie, warum für das folgende Skalarprodukt gilt: $\vec{CD} \cdot \vec{DE} = 0$ [1 Punkt]
– Ermitteln Sie die Koordinaten des Vektors \vec{BC} . [1 Punkt]
– Berechnen Sie die Streckenlänge \overline{BC} . [1 Punkt]

- b) Für die Gesamtwertung wurden die Zeiten aller 130 Läufer/innen dokumentiert und im nachstehenden Boxplot zusammengefasst.



- Lesen Sie den Median der Laufzeiten ab.

[1 Punkt]

Elisabeth erreichte bei diesem Silvesterlauf in der Gesamtwertung den 20. Platz.

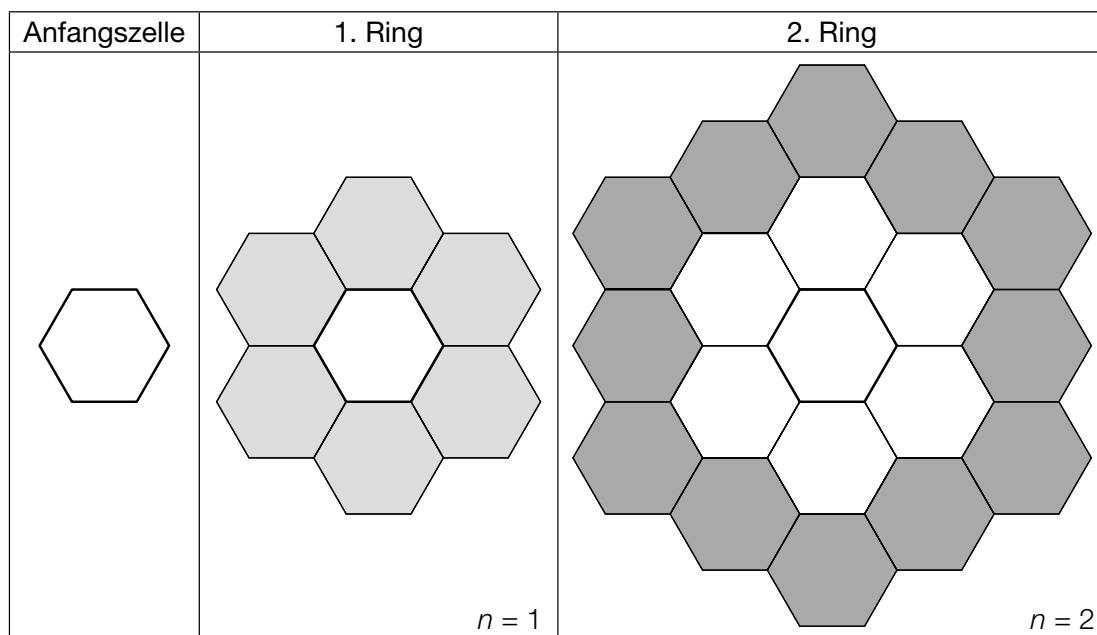
- Lesen Sie aus dem obigen Boxplot das kleinste Intervall ab, in dem Elisabeths Laufzeit mit Sicherheit liegen muss.

[1 Punkt]

Aufgabe 9 (Teil B)

Bienenwaben

Bienen bauen ihre Waben, indem sie mit einer einzigen sechseckigen Zelle (Anfangszelle) starten und dann weitere sechseckige Zellen ringförmig um die erste Zelle bauen.



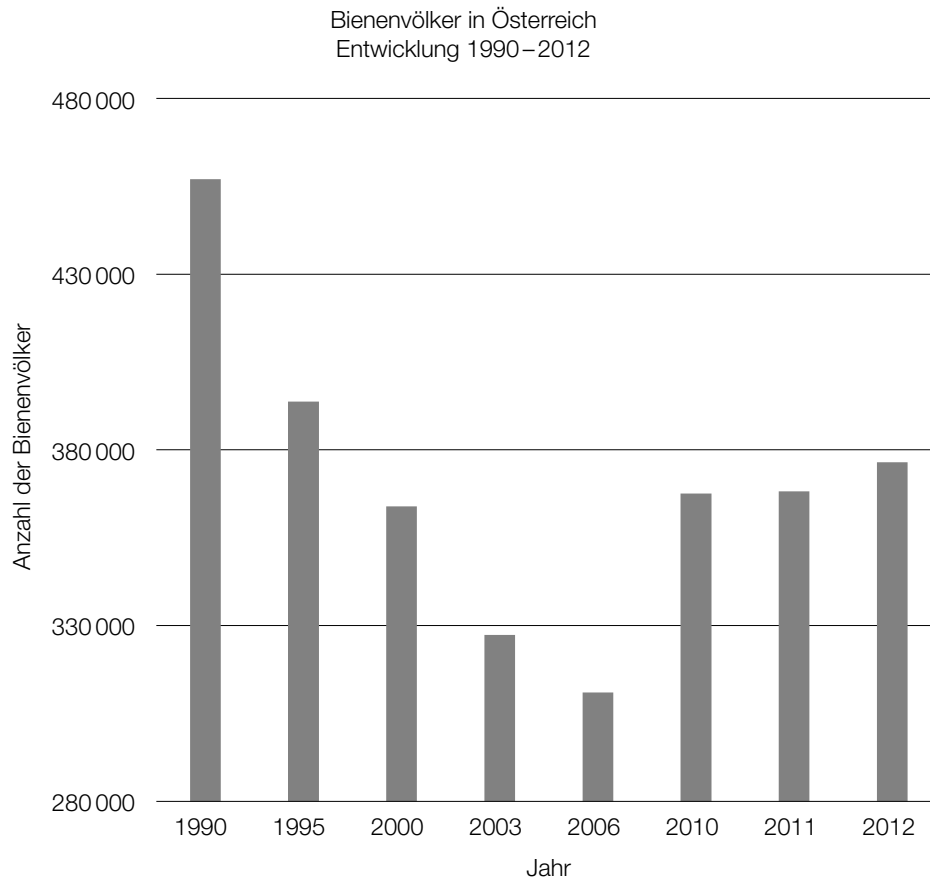
- a) Die Anzahlen der Zellen in den jeweiligen Ringen bilden eine arithmetische Folge. Die Anfangszelle wird dabei nicht als Ring gezählt.
- Geben Sie die ersten 4 Glieder dieser arithmetischen Folge an. *[1 Punkt]*
 - Stellen Sie ein rekursives Bildungsgesetz für diese arithmetische Folge auf. *[1 Punkt]*
 - Stellen Sie ein explizites Bildungsgesetz für diese arithmetische Folge auf. *[1 Punkt]*
- b) Mit der Formel $s_n = 1 + 3 \cdot n + 3 \cdot n^2$ kann man berechnen, wie viele Zellen insgesamt bis zum n -ten Ring gebildet worden sind.
Eine Wabe besteht aus insgesamt 271 Zellen.
- Ermitteln Sie, aus wie vielen Ringen diese Wabe besteht. *[1 Punkt]*

- c) Auf einer Fläche von 1 dm^2 befinden sich durchschnittlich 850 Zellen. Eine Zelle enthält im Mittel 0,3 Milliliter (ml) Honig mit einer Dichte von $1,4 \text{ g/ml}$. Die Masse ist das Produkt von Volumen und Dichte.

– Berechnen Sie die Masse des Honigs, die man auf einer Fläche von 3 dm^2 erwarten kann.

[1 Punkt]

- d) In der nachstehenden Abbildung ist die Entwicklung der Bienenvölker in Österreich dargestellt.



Datenquelle: <http://www.biene-oesterreich.at/struktur-der-bienenhaltung-in-oesterreich+2500+1135143?env=Y2Q9Mg> [20.04.2016].

Ein Betrachter der vorliegenden Darstellung behauptet: „Im Jahr 2010 gab es rund 3-mal so viele Bienenvölker wie im Jahr 2006. Das erkenne ich daran, dass die Säule für das Jahr 2010 rund 3-mal so hoch ist wie jene für das Jahr 2006.“

– Erklären Sie, warum diese Argumentation falsch ist.

[1 Punkt]